


Rallye de l'UE



Dans quel quartier de Luxembourg-Ville vous trouvez-vous actuellement ?

Que remarquez-vous en observant ce quartier ?

D'un seul trait et sans lever le crayon, faites un dessin de votre environnement.

1) Banque européenne d'investissement (photos 1-4)

Pour commencer, rendez-vous à la Banque européenne d'investissement.
Vous y remarquerez le bâtiment particulier avec les nombreux drapeaux.

a.

Dans quel ordre (de droite à gauche) les drapeaux des pays européens sont-ils disposés devant le bâtiment EST de la BEI ?

- Selon la taille des pays
- Selon les couleurs qui vont ensemble
- Selon l'ordre alphabétique des noms de pays dans la langue nationale

b.

De quel matériau la façade extérieure du bâtiment de la BEI est-elle principalement constituée ?

- Verre
- Bois
- Acier

c.

Quel est le numéro du bâtiment EST de la BEI ?

d.

Que signifie l'abréviation UE ?

👣 Questions / en route 👣

2) Jardin du multilinguisme (photos 5-7)

Vous vous rendez maintenant dans un jardin très particulier. Ici, tout est centré sur les langues.

a. Combien de langues (à l'exception du luxembourgeois) comptez-vous sur les différents tableaux ?

b. Qu'est-ce que toutes ces langues peuvent bien avoir en commun ?

c. Que signifie « Svoboda » en luxembourgeois, en français et en anglais ?

LU : _____



FR : _____

EN : _____

d. Reliez les termes suivants avec leurs traductions.

- | | | | |
|----------------|-----------------------|-----------------------|----------------|
| Paz | <input type="radio"/> | <input type="radio"/> | Gläichheet |
| Δημοκρατία | <input type="radio"/> | <input type="radio"/> | Mënscherechter |
| Justice | <input type="radio"/> | <input type="radio"/> | Demokratie |
| Droits humains | <input type="radio"/> | <input type="radio"/> | Gerechtigkeet |
| Равенство | <input type="radio"/> | <input type="radio"/> | Fridden |

e. Que reconnaissez-vous sur les chemins du parc ?

 **Questions / en route** 

f. Tous les pays européens sont-ils membres de l'UE ?

- Oui Non



3) Cour de justice de l'Union européenne (photo 8)

Juste à côté du « Jardin du multilinguisme » se trouve le bâtiment le plus haut du Luxembourg. Avec ses 118 mètres, la tour Rocca s'élève haut dans le ciel.

a. Quelle est la couleur caractéristique des trois tours de la Cour de justice de l'Union européenne ?

b. Combien de tours ont une façade extérieure partiellement noire ?

c. Quel est, selon vous, le rôle d'une telle Cour de justice ?

 **Questions / en route** 

d. Combien de pays membres l'UE compte-t-elle actuellement ?

4) Commission européenne (photos 9-10)

Non loin de la Cour de justice européenne se trouve le bâtiment "Jean Monnet II". Il abritera des bureaux pour la Commission européenne.

a. Où se trouve le siège de la Commission européenne ?

Ville : _____

Pays : _____

b. Quel est le rôle de la Commission européenne ?

c. À qui la Commission européenne transmet-elle ses propositions ?

- D'abord au Parlement européen, puis au Conseil des ministres.
- D'abord au Conseil des ministres, puis au Parlement européen
- En même temps au Conseil des ministres et au Parlement européen

d. Combien de commissaires la Commission européenne compte-t-elle ?

e. Sont-ils et elles élu-e-s par les citoyennes et citoyens de l'UE ?


Oui

Non

Questions / en route

f. Citez un (ou plusieurs) objectif(s) de l'UE.






5) Cour des comptes européenne (photos 11-14)

Vous vous dirigez maintenant vers la Cour des comptes européenne. Vous passez devant une rue qui porte le nom d'un ancien président du Parlement européen. Trouvez-vous de qui il s'agit ?

a.


Remplissez la fiche signalétique.



NOM : Alcide
Nom de famille : _____
Nationalité : _____
Né en : _____
Décédé en : _____

b.

Quel est, selon vous, le rôle d'une telle institution ?
Vous trouverez la réponse dans le nom de cette « cour ».



Questions / en route

c.

Avec quelles lois européennes es-tu en contact au quotidien ?

- Les aliments sont soumis à des contrôles stricts dans l'UE
- Les déchets sont triés et réutilisés
- Les appels au sein de l'UE ne sont pas soumis à des frais supplémentaires
- Les étiquettes indiquent la consommation d'énergie des appareils

6) Parlement européen (photos 15-17)

Vous vous trouvez désormais devant le bâtiment Konrad Adenauer. Il s'agit du secrétariat général du Parlement européen.

a.

Quel est le rôle du Parlement européen ?

b.

Où se trouve le siège du Parlement européen ?

Ville :

Pays :

c.

Combien de député·e·s le Parlement européen compte-t-il au total ?

d.

Sont-ils et elles élu·e·s par les citoyennes et citoyens de l'UE ?

Oui

Non

e.

Combien de colonnes soutiennent l'auvent (le toit) situé devant le bâtiment ?

f.

Combien de couleurs ont été utilisées pour désigner les bâtiments à l'entrée ? (Regardez bien, vous trouvez la réponse sur le petit panneau sous l'auvent-photo 17) ?

2

3

4

5

👣 Questions / en route 👣

g.


Les trois institutions de l'UE (Commission, Parlement, Conseil des ministres) se trouvent-elles toutes dans une capitale de l'UE ?

Oui

Non

h.

À partir de quand une nouvelle loi européenne entre-t-elle en vigueur au Luxembourg ?



7) Conseil des ministres (photos 18-24)

Dans une dernière étape, vous vous dirigez vers la Place de l'Europe.

Sous la tour et à côté de la Philharmonie se trouve le European Convention Center Luxembourg.

Les ministres compétent·e·s des différents pays membres de l'UE s'y réunissent trois fois par an.

a. Quel est le rôle du Conseil des ministres ?

b. Combien de ministres se réunissent au total au Conseil des ministres ?

c. Où les ministres compétent·e·s du Conseil des ministres se réunissent-ils et elles encore ?

Ville :

Pays :

d. Que peut-on lire sur les plaques à côté de certains arbres derrière la Philharmonie ?

f. Combien d'institutions européennes participent à un projet de loi ?


2 3 4

e. Depuis quand les pays suivants font-ils partie de l'UE ?

Suède	<input type="radio"/>	<input type="radio"/> 2004
Croatie	<input type="radio"/>	<input type="radio"/> 1981
Hongrie	<input type="radio"/>	<input type="radio"/> 1995
Grèce	<input type="radio"/>	<input type="radio"/> 1951
Luxembourg	<input type="radio"/>	<input type="radio"/> 2013

g. Par quelle forme géométrique ces institutions européennes sont-elles reliées entre elles ?

triangle
 rectangle
 cercle




Énigme (photos 25-26)

Notez les chiffres trouvés en réponse à des questions déterminées.

- Premier chiffre du numéro du bâtiment Est de la BEI : _____
- Nombre de tours de la Cour de justice de l'Union européenne dotées d'une façade partiellement noire : _____
- Troisième chiffre de l'année d'adhésion de la Croatie : _____
- Nombre de couleurs utilisées pour désigner les différents bâtiments à l'entrée du bâtiment Konrad Adenauer : _____
- **Assemblez à présent les chiffres pour obtenir une année qui revêt une très grande importance pour l'Europe :**

Que s'est-il passé cette année-là ?



Photos



6.



7.



8.



9.



11.



10.



12.



13.



14.



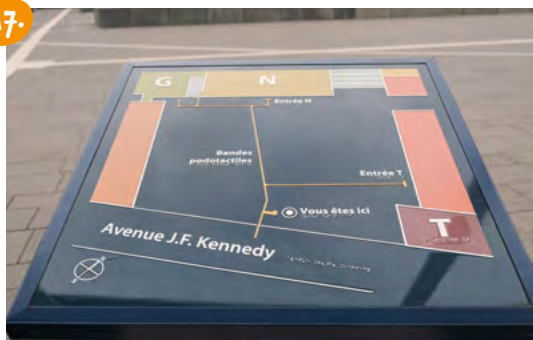
15.



16.




17.



18.



19.



20.



21.



22.



23.



24.



25.



26.

